

EKSAMEN**Algoritmer og Datastrukturer****Torsdag 27. maj 2021, 9:00–11:00**

Institut for Datalogi, Naturvidenskabelige Fakultet, Aarhus Universitet

Antal sider i opgavesættet (incl. forsiden): 14

Tilladte medbragte hjælpemidler:

Alle, inklusive internet.**Det er ikke tilladt at kommunikere med andre under eksamen.****Studienummer :****Navn :**

**Dokumentet skal udfyldes med Adobe Acrobat,
som kan hentes fra <https://get.adobe.com/reader/>**

Vejledning og pointgivning

Dette eksamenssæt består af en mængde multiple-choice-opgaver.

Opgaverne besvares på opgaveformuleringen **som afleveres**.

For hver opgave er angivet opgavens andel af det samlede eksamenssæt.

Hvert delspørgsmål har præcist et rigtigt svar.

For hvert delspørgsmål må du vælge **max ét svar** ved at afkrydse den tilsvarende rubrik.

Et delspørgsmål bedømmes som følgende:

- Hvis du sætter kryds ved det rigtige svar, får du 1 point.
- Hvis du ikke sætter nogen krydser, får du 0 point.
- Hvis du sætter kryds ved et forkert svar, får du $-\frac{1}{k-1}$ point, hvor k er antal svarmuligheder.

For en opgave med vægt $v\%$ og med n delspørgsmål, hvor du opnår samlet s point, beregnes din besvarelse af opgaven som:

$$\frac{s}{n} \cdot v \%$$

Bemærk at det er muligt at få negative point for en opgave.

Opgave 1 (Asymptotisk notation, 6 %)

check

I det følgende angiver $\log n$ 2-tals-logaritmen af n .

Ja Nej

- $(\log n)^2$ er $O(n^2)$
- $n \cdot \log n$ er $O(n^2)$
- \sqrt{n} er $O((\log n)^3)$
- $1 + \log(n^2)$ er $O((\log n)^2)$
- $\log n + \log(n!)$ er $O(n^2)$
- n^3 er $O(n)$
- $\sqrt{n} \cdot \log n$ er $O(n)$
- n^3 er $O(\log(n!))$
- n^2 er $O(n^{2/3})$
- $7 \log n + \log(n!)$ er $\Theta(n \cdot \log n)$
- $2^{\log n}$ er $\Omega(n^{0.01})$
- $(\log n)^3 + 3^n$ er $\Omega(2^n)$

Opgave 2 (Analyse af løkker, 6 %)

check

<p>Algoritme loop1(n) $s = 1$ for $i = 1$ to $n * n$ for $j = 1$ to n $s = s + 1$</p>	<p>Algoritme loop2(n) $i = n$ while $i \leq n * n$ $i = 2 * i$</p>
<p>Algoritme loop3(n) $i = 1$ $j = n * n$ while $i \leq j$ $i = 2 * i$ $j = j - 1$</p>	<p>Algoritme loop4(n) $i = 1$ while $i \leq n$ $j = i$ while $j > 0$ $j = \lfloor j/2 \rfloor$ $i = i + i$</p>

Angiv for hver af ovenstående algoritmer udførselstiden som funktion af n i Θ -notation.

$\Theta(\sqrt{n})$ $\Theta(n^3)$ $\Theta(n)$ $\Theta(\sqrt[3]{n})$ $\Theta(n^2)$ $\Theta(\log n)$ $\Theta((\log n)^2)$ $\Theta(n \log n)$

- loop1
- loop2
- loop3
- loop4

Opgave 3 (Max-Heap-Insert, 4 %)

check

Angiv den binære max-heap efter indsættelse af elementerne 6, 12, 13, 4, 8, 14 og 5 i den givne rækkefølge med MAX-HEAP-INSERT, startende med den tomme heap.

1	2	3	4	5	6	7
14	12	13	4	8	6	5

1	2	3	4	5	6	7
6	12	13	4	8	14	5

1	2	3	4	5	6	7
14	8	13	4	6	12	5

1	2	3	4	5	6	7
14	13	12	8	6	5	4

1	2	3	4	5	6	7
13	12	14	4	8	6	5

Opgave 4 (Heap-Extract-Max, 4 %)

check

1	2	3	4	5	6	7	8	9	10	11	12	13
25	24	20	13	23	16	15	1	9	4	3	12	14

Hvad er resultat af HEAP-EXTRACT-MAX på ovenstående max-heap ?

1	2	3	4	5	6	7	8	9	10	11	12	13
24	23	20	13	4	16	15	1	9		3	12	14

1	2	3	4	5	6	7	8	9	10	11	12
24	23	20	13	4	16	15	1	9	3	12	14

1	2	3	4	5	6	7	8	9	10	11	12
24	23	20	13	4	16	15	1	9	14	3	12

1	2	3	4	5	6	7	8	9	10	11	12
24	23	20	13	14	16	15	1	9	4	3	12

1	2	3	4	5	6	7	8	9	10	11	12
24	23	15	20	16	14	1	9	4	3	12	13

Opgave 5 (Sorteringsalgoritmer, 4 %)

check

Givet et array af størrelse n indeholdende tallene $1, 2, \dots, n$ i voksende rækkefølge, hvad er worst-case tiden for følgende sorteringsalgoritmer, når de anvendes på arrayet ?

$\Theta(n)$ $\Theta(n \log n)$ $\Theta(n^2)$

- InsertionSort
- HeapSort
- MergeSort
- QuickSort

Opgave 6 (Partition, 4 %)

check

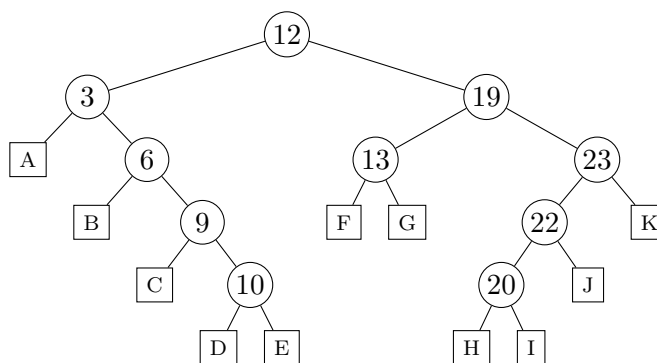
1	2	3	4	5	6	7	8	9	10	11	12	13	14	15
21	17	28	14	9	18	6	1	26	15	30	7	13	19	2

Angiv resultatet af at anvende PARTITION($A, 4, 13$) på ovenstående array A .

1	2	3	4	5	6	7	8	9	10	11	12	13	14	15
21	17	28	1	6	7	9	13	14	15	18	26	30	19	2
1	2	3	4	5	6	7	8	9	10	11	12	13	14	15
1	2	6	7	9	13	14	15	17	18	19	21	26	28	30
1	2	3	4	5	6	7	8	9	10	11	12	13	14	15
21	17	28	9	6	1	7	13	14	18	26	15	30	19	2
1	2	3	4	5	6	7	8	9	10	11	12	13	14	15
21	17	28	9	6	1	7	13	26	15	30	14	18	19	2

Opgave 7 (Indsættelser i søgetræer, 4 %)

check



Angiv i hvilke blade A–K i ovenstående ubalancerede binære søgetræ elementerne 24, 18, 21, 17 og 8 skal indsættes (det antages at før hver indsættelse indeholder træet kun ovenstående ti elementer).

A B C D E F G H I J K

INSERT(24)

INSERT(18)

INSERT(21)

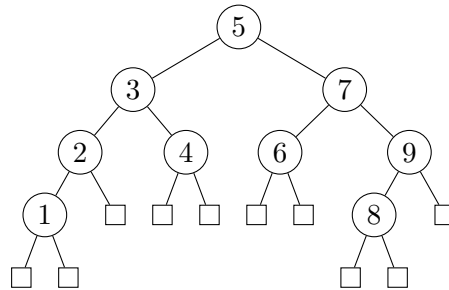
INSERT(17)

INSERT(8)

Opgave 8 (Rød-sort træ, 4 %)

check

For hver af nedenstående delmængder, angiv om nedenstående binære træ er et lovligt rød-sort træ hvis netop disse knuder farves røde.

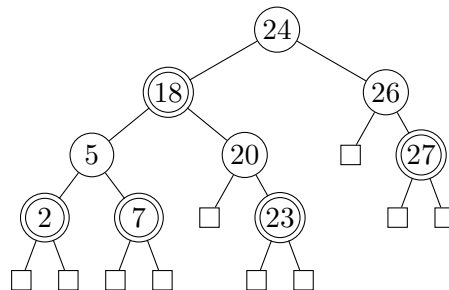


Ja Nej

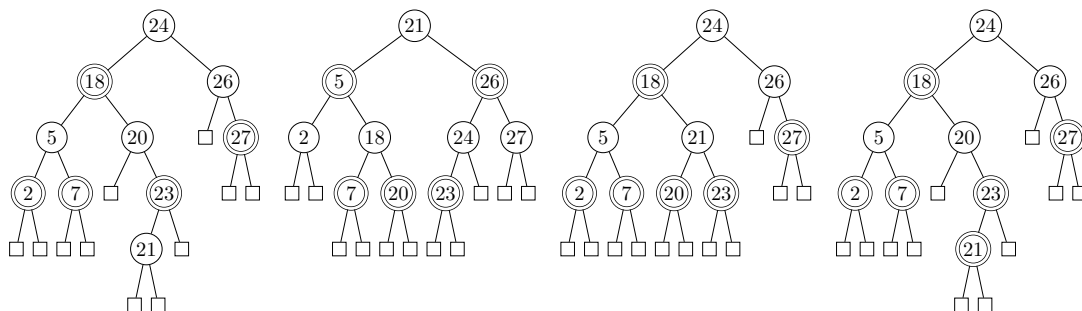
- 1, 3, 6, 8, 9
- 1, 8
- 1, 2, 4, 7, 8
- 1, 5, 8
- 1, 3, 7, 8

Opgave 9 (Indsættelse i rød-sort træer, 4 %)

check



Angiv det resulterende rød-sort træ når man indsætter 21 i ovenstående rød-sort træ (dobbeltcirkler angiver røde knuder).



Opgave 10 (Lineær probing, 4 %)

check

0	1	2	3	4	5	6	7	8	9	10
0			18		19	8				16

I ovenstående hashtabel af størrelse 11 er anvendt *linear probing* med hashfunktionen $h(k) = 2k \text{ mod } 11$.

Angiv positionerne de fem elementer 2, 3, 5, 7 og 11 vil blive indsat på i hashtabellen (for hver af indsættelserne antager vi at hashtabellen kun indeholder elementerne 0, 8, 16, 18 og 19).

0 1 2 3 4 5 6 7 8 9 10

INSERT(2)

INSERT(3)

INSERT(5)

INSERT(7)

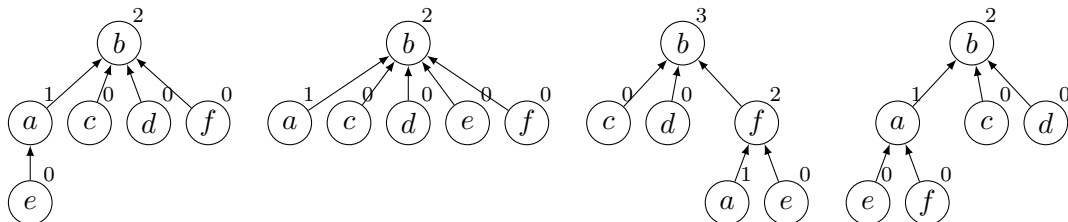
INSERT(11)

Opgave 11 (Union-find, 4 %)

check

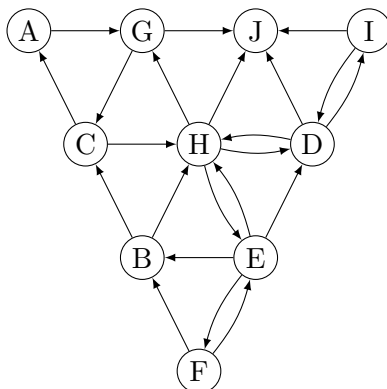
Angiv den resulterende union-find struktur efter nedenstående sekvens af operationer, når der anvendes union-by-rank og stikomprimering.

- MAKESET(*a*)
- MAKESET(*b*)
- MAKESET(*c*)
- MAKESET(*d*)
- MAKESET(*e*)
- MAKESET(*f*)
- UNION(*e*, *a*)
- UNION(*a*, *f*)
- UNION(*d*, *b*)
- UNION(*e*, *b*)
- UNION(*c*, *f*)
- FIND-SET(*b*)



Opgave 12 (BFS, 4 %)

check

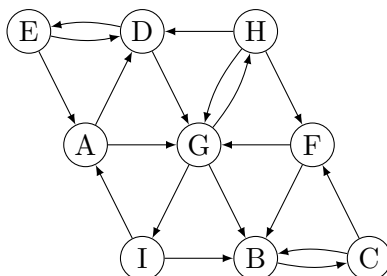


For et bredde først gennemløb (BFS) af ovenstående graf **startende i knuden A**, angiv rækkefølgen knuderne bliver indsat i køen Q i BFS-algoritmen. Det antages, at grafen er givet ved incidenslister, hvor incidenslisterne er sorteret alfabetisk.

AGCHDIJEBF AGCJHDEIFB AGJCHDEIFB AGCJHDEIFB

Opgave 13 (DFS, 4 %)

check



Betragt et dybde først gennemløb (DFS) af ovenstående graf, hvor DFS-gennemløbet starter i **knuden A**, hvor de udgående kanter til en knude besøges i alfabetisk rækkefølge. Angiv i hvilken rækkefølge knuderne får tildelt **discovery time**.

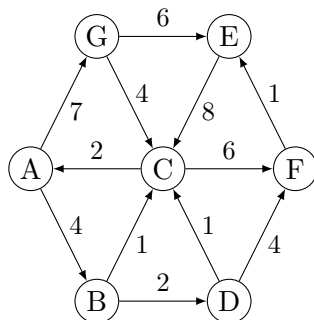
AGBCFHDEI ADEGBCFHI ADGEBHICF ADGIHBCFE

Angiv for hver af nedenstående kanter hvilken type kanten bliver i DFS gennemløbet.

Tree edge Back edge Cross edge Forward edge

- (H, D)
- (A, G)
- (G, B)
- (H, F)

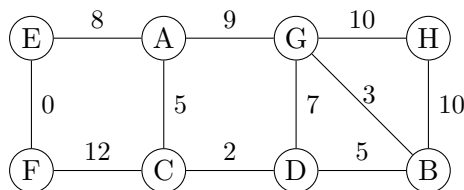
Opgave 14 (Dijkstras algoritme, 4 %)



Antag Dijkstras algoritme anvendes til at finde korteste afstande fra **knuden A** til alle knuder i ovenstående graf. Angiv hvilken rækkefølge knuderne bliver taget ud af prioritetskøen i Dijkstra's algoritme.

ABCDGFE ABCDFEG ABGCDEF ABCFEDG

Opgave 15 (Prims algoritme, 4 %)



Antag Prims algoritme anvendes til at finde et minimum udspændende træ for ovenstående graf, og algoritmen starter i **knuden A**. Angiv hvilken rækkefølge knuderne bliver inkluderet i det minimum udspændende træ (taget ud af prioritetskøen i Prims algoritme).

ACDBGFEH ACDEFBGH ACDBGHFE ACDEFGBH

Opgave 16 (Rekursionsligninger, 4 %)

Angiv løsningen for hver af nedenstående rekursionsligninger, hvor $T(n) = 1$ for $n \leq 1$.

$\Theta(\log n)$ $\Theta(\sqrt{n})$ $\Theta(n)$ $\Theta(n \log n)$ $\Theta(n^2)$ $\Theta(n^2 \log n)$ $\Theta(n^3)$

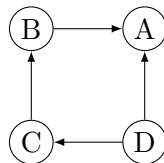
$T(n) = 4 \cdot T(n/2) + n^2$

$T(n) = 2 \cdot T(n/5) + n$

$T(n) = T(n - 1) + \log n$

$T(n) = T(n/4) + 5$

$T(n) = 4 \cdot T(n/2) + 1$

Opgave 17 (Topologisk sortering, 4 %)**check**

Angiv for hver af nedenstående ordninger af knuderne i ovenstående graf om det er en lovlig topologisk sortering.

Ja Nej

DCBA

BCDA

ACBD

DCAB

CDBA

Opgave 18 (Amortiseret analyse)**check**

En binær max-heap understøtter INSERT og HEAP-EXTRACT-MAX på en heap med n elementer i worst-case $O(\log n)$ tid. Bemærk den samme værdi kan være indsat flere gange i en max-heap. Vi ønsker nu at ændre HEAP-EXTRACT-MAX, således at den fjerner alle forekomster af maximum værdien fra heapen, d.v.s. den oprindelige HEAP-EXTRACT-MAX operation gentages indtil roden indeholder en mindre værdi eller at heapen er tom. Hvis maximum forekommer m gange i heapen, så vil HEAP-EXTRACT-MAX operationen tage worst-case $O(m \log n)$ tid.

Angiv for hver af nedenstående funktioner om de er en potentialefunktion, hvormed man kan argumentere for at operationerne INSERT og HEAP-EXTRACT-MAX tager amortiseret $O(\log n)$ tid. Antal elementer i heapen betegnes n og antallet af forskellige elementer i heapen N , hvor $N \leq n$.

Ja Nej

 n N $n - N$ $n \cdot \log n$ $N \cdot \log n$ $(n - N) \cdot \log n$

Opgave 19 (Invarianter, 4 %)

check

Givet et ikke-negativt heltal x og et positive heltal y , så beregner nedenstående algoritme $\lfloor x/y \rfloor$.

Algoritme Division(x, y)
 Inputbetingelse : Heltal $x \geq 0$ og $y \geq 1$
 Outputkrav : $r = \lfloor x/y \rfloor$
 Metode : $r \leftarrow 0$
 { I } **while** $x \geq y$ **do**
 $x \leftarrow x - y$
 $r \leftarrow r + 1$

For hvert af følgende udsagn, angiv om de er en invariant I for algoritmen Division, hvor x_0 og y_0 angiver værdierne for henholdsvis x og y i starten.

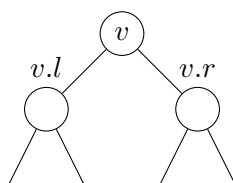
Ja Nej

- $r = \lfloor x/y \rfloor$
- $r = \lfloor x_0/y_0 \rfloor$
- $r = \lfloor (x_0 - x)/y \rfloor$
- $x + ry = x_0$
- $r(x - x_0) = y$

Opgave 20 (Udvidede søgetræer, 4 %)

check

For en sorteret liste af tal $x_1 \leq x_2 \leq \dots \leq x_n$ definerer vi *sum of square gaps* (*ssg*) som $\sum_{i=2..n} (x_i - x_{i-1})^2$. Betragt et rød-sort træ hvor hver knude v gemmer et heltal $v.x$, og knuderne er ordnet venstre-mod-højre efter stigende $v.x$. Desuden gemmer v værdierne $v.min$, $v.max$ og $v.ssg$, som er hhv. det mindste, største og *sum of square gaps* af elementerne i undertræet rodet i v .



Angiv hvorledes $v.ssg$ kan beregnes når $v.min$, $v.max$ og $v.ssg$ er kendt ved de to børn $v.l$ og $v.r$ (det kan antages at disse begge eksisterer).

$$v.ssg = v.l.ssg + v.r.ssg$$

$$v.ssg = v.l.ssg + (v.r.min - v.l.max)^2 + v.r.ssg$$

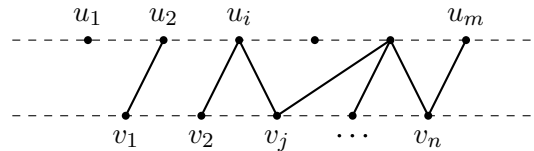
$$v.ssg = v.l.ssg + (v.x - v.l.max)^2 + (v.x - v.r.min)^2 + v.r.ssg$$

$$v.ssg = v.l.ssg + (v.r.x - v.l.x)^2 + v.r.ssg$$

$$v.ssg = v.l.ssg + (v.x - v.l.x)^2 + (v.x - v.r.x)^2 + v.r.ssg$$

Dynamisk programmering

De næste fire opgaver vedrører at løse *forbindelses* problemet ved hjælp af dynamisk programmering. Vi er givet to mængder af knuder $U = \{u_1, \dots, u_m\}$ og $V = \{v_1, \dots, v_n\}$, som ligger på to parallelle linjer fra venstre-mod-højre. Vi ønsker at forbinde par af knuder (u_i, v_j) med rette linjer, således at ingen linjer overlapper på nær i endepunkter.



Hver mulig forbindelse (u_i, v_j) har en reel værdi $w(i, j)$, muligvis negativ. Vi ønsker at finde en mængde af ikke-overlappende forbindelse med maksimal samlet værdi. For $0 \leq i \leq m$ og $0 \leq j \leq n$ lader vi $W(i, j)$ angive den maksimale værdi man kan opnå ved at forbinde $\{u_1, \dots, u_i\}$ med $\{v_1, \dots, v_j\}$ med ikke-overlappende forbindelse

$W(i, j)$ kan bestemmes ved følgende rekursionsformel.

$$W(i, j) = \begin{cases} 0 & i = 0 \text{ eller } j = 0 \\ \max\{0, w(i, j)\} + \max\{W(i - 1, j), W(i, j - 1)\} & \text{ellers} \end{cases}$$

De følgende 4 opgaver består i at udfylde 4 blokke i følgende algoritmeskabelon.

Algoritme Connect(w)

Opret tom tabel $W[0..m, 0..n]$

```

for ...
    << Opgave 21: iterer over W >>
        << Opgave 22: beregn W[i, j] >>
    << Opgave 23: sæt solution til maksimal værdi >>
    << Opgave 24: udskriv en løsning >>
    
```

Opgave 21 (4 %)

check

For hver af nedenstående stykker kode, angiv om det vil kunne føre til en korrekt løsning.

Ja Nej

```

for  $i = 0$  to  $m$ 
  for  $j = 0$  to  $n$ 


---


for  $j = 0$  to  $n$ 
  for  $i = 0$  to  $m$ 


---


for  $i = m$  to  $0$  step  $-1$ 
  for  $j = 0$  to  $n$ 


---


for  $j = n$  to  $0$  step  $-1$ 
  for  $i = 0$  to  $m$  step  $-1$ 

```

Opgave 22 (4 %)

check

For hver af nedenstående stykker kode, angiv om det vil kunne føre til en korrekt løsning.

Ja Nej

```

 $W[i, j] = \max(0, w[i, j] + \max(W[i - 1, j], W[i, j - 1]))$ 


---


 $W[i, j] = 0$ 
if  $i > 0$  and  $j > 0$  then
   $W[i, j] = \max(0, w[i, j] + \max(W[i - 1, j], W[i, j - 1]))$ 


---


if  $i = 0$  or  $j = 0$  then
   $W[i, j] = 0$ 
else
  if  $w[i, j] > 0$  then
     $W[i, j] = w[i, j]$ 
  else
     $W[i, j] = 0$ 
   $W[i, j] = W[i, j] + \max(W[i - 1, j], W[i, j - 1])$ 

```

Opgave 23 (4 %)**check**

For hver af nedenstående stykker kode, angiv om det vil kunne føre til en korrekt løsning.

Ja Nej

```
solution = W[0, 0]
```

```
solution = W[m, n]
```

```
solution = 0
for i = 0 to m
  for j = 0 to n
    solution = max{solution, W[i, j]}
```

Opgave 24 (4 %)**check**

For hver af nedenstående stykker kode, angiv om det vil kunne føre til en korrekt løsning.

Ja Nej

```
i = m
j = n
while i > 0 and j > 0 do
  if i = j then
    print (i, j)
  if i > j then
    i = i - 1
  else
    j = j - 1
```

```
i = m
j = n
while i > 0 and j > 0 do
  if w[i, j] > 0 then
    print (i, j)
  if W[i - 1, j] > W[i, j - 1] then
    i = i - 1
  else
    j = j - 1
```

```
i = 1
j = 1
while i < m and j < n do
  if w[i, j] > 0 then
    print (i, j)
  if W[i + 1, j] > W[i, j + 1] then
    i = i + 1
  else
    j = j + 1
```